

**Examenul de bacalaureat național 2014**  
**Proba E. d)**  
**Geografie**

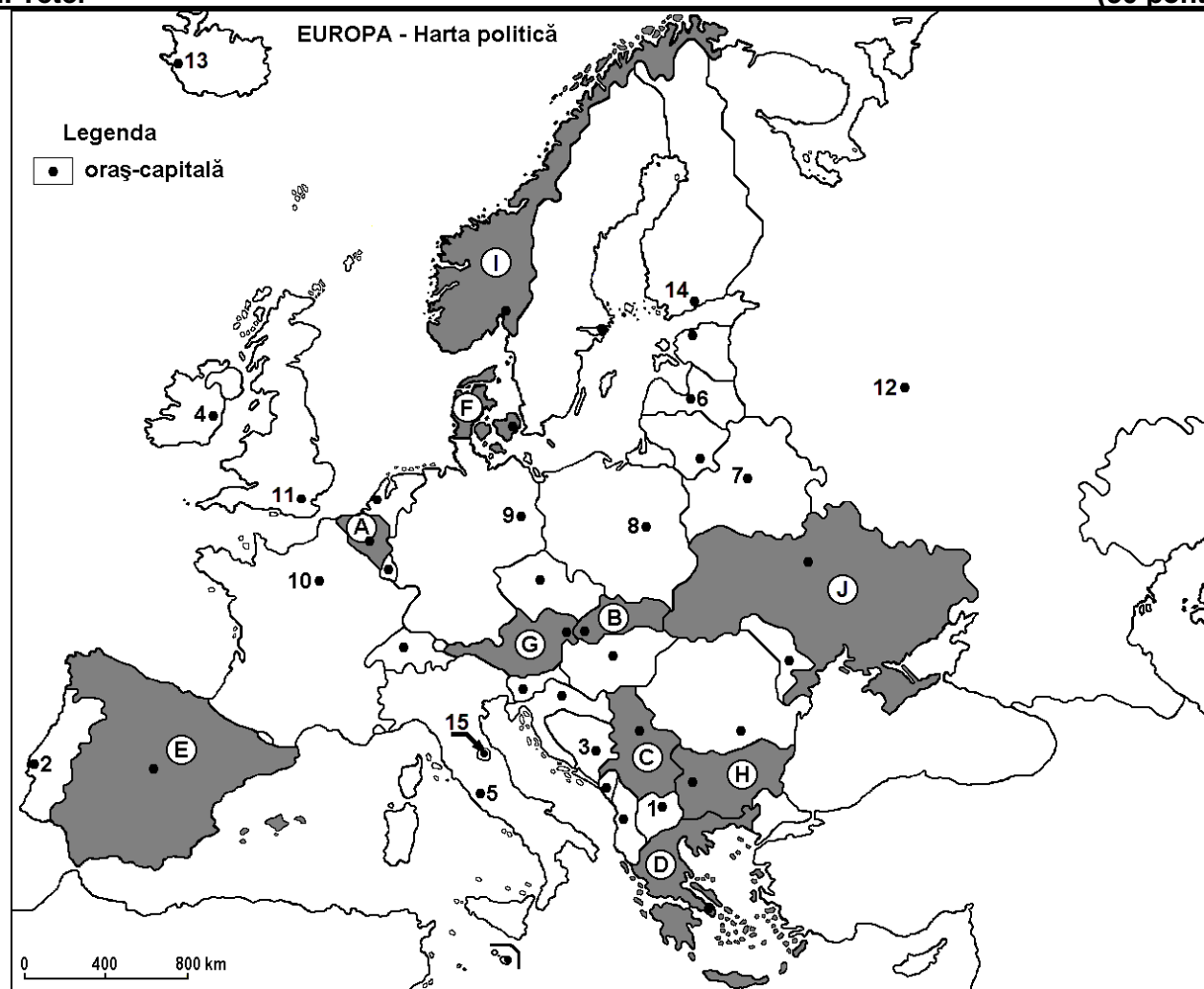
**Simulare**

Filiera teoretică, profilul umanist, specializările: filologie, științe sociale; filiera tehnologică, profilul servicii, toate specializările; Filiera vocațională: profil artistic, specializările: muzică, coregrafie, arta actorului, arhitectură, arte ambientale și design, arte plastice, arte decorative; profil sportiv, toate specializările; profil pedagogic, specializările: învățător/educatoare, bibliotecar-documentarist, instructor-animator, instructor pentru activitățile extrașcolare, pedagog școlar; profil ordine și securitate publică (Licee ale Ministerului Administrației și Internelor) specializarea științe sociale; profil teologic, toate specializările.

- Toate subiectele sunt obligatorii. Se acordă 10 puncte din oficiu.
- Timpul de lucru efectiv este de 3 ore.

**I. Tétel**

**(30 pont)**



A fenti térkép az I. tétel A-E pontjaira vonatkozik. A térképen az országokat betűk, a fővárosokat számok jelölik.

**A.** Nevezzétek meg:

1. a térképen **A** betűvel jelölt országot;
2. a térképen **12-es** számmal jelölt fővárost.

**4 pont**

**B.** Írjátok a vizsgalapra az alábbi mondatokat kiegészítő helyes válaszokat:

1. A térképen **C** betűvel jelölt ország fővárosa ...
2. Szkopjét a térképen a ... szám jelöli.

3. A Rajna-Ruhr városrégió abban az országban helyezkedik el, amelynek a fővárosát a térképen a ... szám jelöli. **6 pont**

C. Írjátok a vizsgalapra az alábbi állítások mindegyikére vonatkozó helyes válasz betűjelét:

1. Rigát a térképen a következő szám jelöli:

a. 6                      b. 7                      c. 13                      d. 14                      **2 pont**

2. A Rodope-hegység a következő betűvel jelölt ország területén húzódik:

a. E                      b. H                      c. I                      d. J                      **2 pont**

3. A térképen 15-ös számmal jelölt főváros neve:

a. Monaco                      b. San Marino                      c. Valletta                      d. Vatikán                      **2 pont**

4. A Donyec-szénmedence a következő betűvel jelölt ország területén helyezkedik el:

a. E                      b. H                      c. I                      d. J                      **2 pont**

5. A B, C és J betűkkel jelölt országok közös földrajzi eleme a:

a. vulkanikus tavak                      b. nagyrészt alföld típusú domborzat  
c. Kárpátok                      d. nagyrészt sztyepp növényzet                      **2 pont**

D. Írjátok három különbséget a térképen D és I betűkkel jelölt országok éghajlata között:

**1 Megjegyzés:** A különbségek a következő éghajlati elemek bármelyikére vonatkozhatnak: éghajlati tényezők, éghajlati típus, évi/nyári/téli középhőmérsékletek, hőmérsékleti amplitúdó, évi/nyári/téli átlagos csapadék, gyakori szelek..

**2 Megjegyzés:** A teljes pontszám csak abban az esetben adható meg, ha a különbségek összehasonlítóképpen és nem külön-külön vannak leírva. **6 pont**

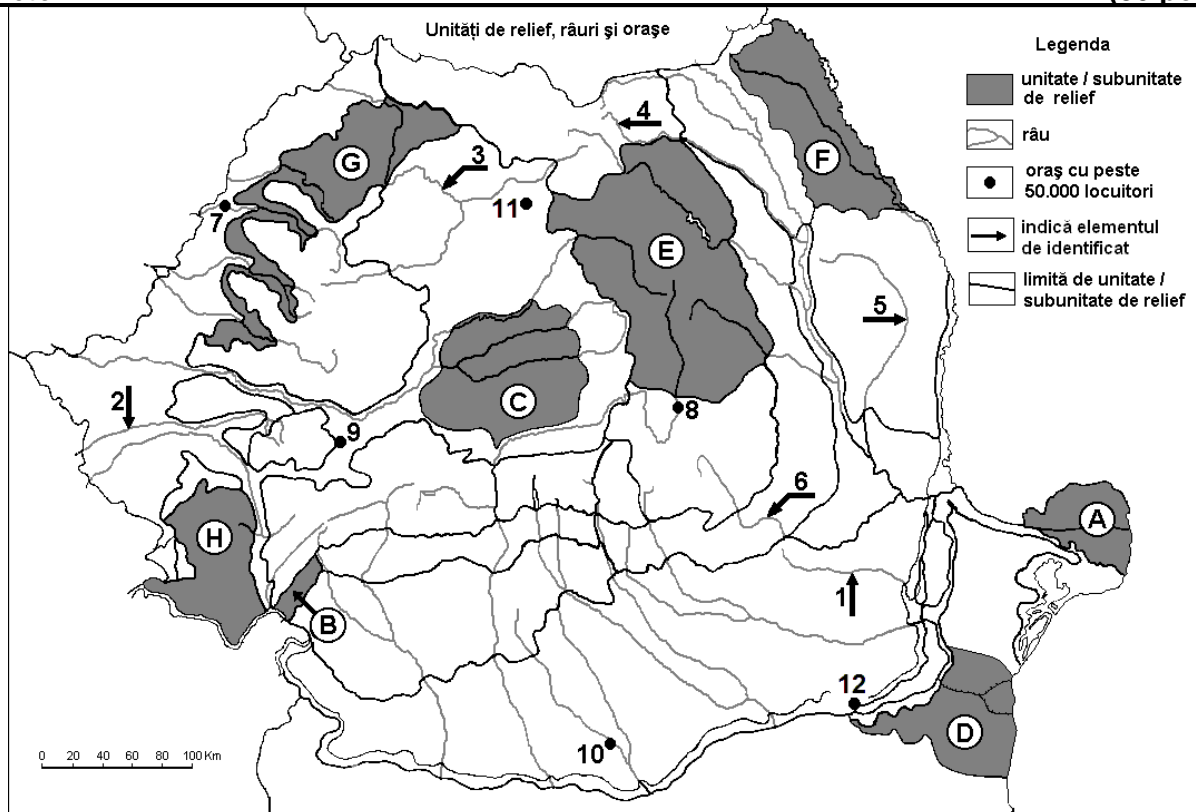
E. Írjátok:

1. két olyan tényezőt, amelyek elősegítették a turizmus fejlődését, a térképen E betűvel jelölt országban.

2. két olyan természeti adottságot, amelyek kedvezőek a szőlő termesztésére, az E betűvel jelölt országban. **4 pont**

## II. Tétel

(30 pont)



A fenti térkép a II. Tétel A-D pontjaira vonatkozik. A térképen a domborzati egységeket betűk, a folyókat 1-6-os, a városokat pedig 7-12-es számok jelölik.

A. Nevezzétek meg:

1. a térképen **12**-es számmal jelölt várost;
2. a térképen **5**-ös számmal jelölt folyót.

4 pont

B. Írjátok a vizsgalapra az alábbi mondatokat kiegészítő helyes válaszokat:

1. A térképen **4**-es számmal jelölt folyó neve ...
2. A térképen **7**-es számmal jelölt város neve ...
3. A térképen **C** betűvel jelölt domborzati egység neve ...

6 pont

C. Írjátok a vizsgalapra az alábbi állítások mindegyikére vonatkozó helyes válasz betűjelét:

1. Gyűrődéssel keletkezett, a térképen a következő betűvel jelölt domborzati egység:  
a. A                      b. B                      c. C                      d. F                      2 pont
2. Vaskohászati központ, a térképen a következő számmal jelölt város:  
a. 8                      b. 9                      c. 10                      d. 11                      2 pont
3. Óceáni éghajlati hatás jellemző a következő betűvel jelölt tájegységre:  
a. A                      b. D                      c. F                      d. G                      2 pont
4. Erdőssztyepp jellemző a következő betűvel jelölt tájegységre:  
a. C                      b. E                      c. F                      d. H                      2 pont
5. A térképen **8**-as számmal jelölt város neve:  
a. Brassó (Brașov)                      b. Kovászna (Covasna)  
c. Csíkszereda (Miercurea Ciuc)                      d. Sepsiszentgyörgy (Sfântu Gheorghe)                      2 pont

D. Írjátok három különbséget a térképen **E** és **H** betűkkel jelölt tájegységek domborzata között.

**1 Megjegyzés:** A különbségek a **domborzat** következő jellemzőire vonatkozhatnak: kialakulási mód, köztetani felépítés, tengerszint feletti magasságok, tagoltság, domborzati típusok, a hegységek és a fontosabb völgyek iránya, a medencék elhelyezkedése, más domborzati jellemzők.

**2 Megjegyzés:** A teljes pontszám csak abban az esetben adható meg, ha a különbségek összehasonlításkeppen és nem külön-külön vannak leírva.

6 pont

E. 1. Írjátok egy okot, amiért a hegyvidéken sokkal gyakoribbak a vízerőművek, mint az alföldön.

2. Mutassatok be két olyan változást, amelyek Románia foglalkozási szerkezetében következtek be, 1990 után.

4 pont

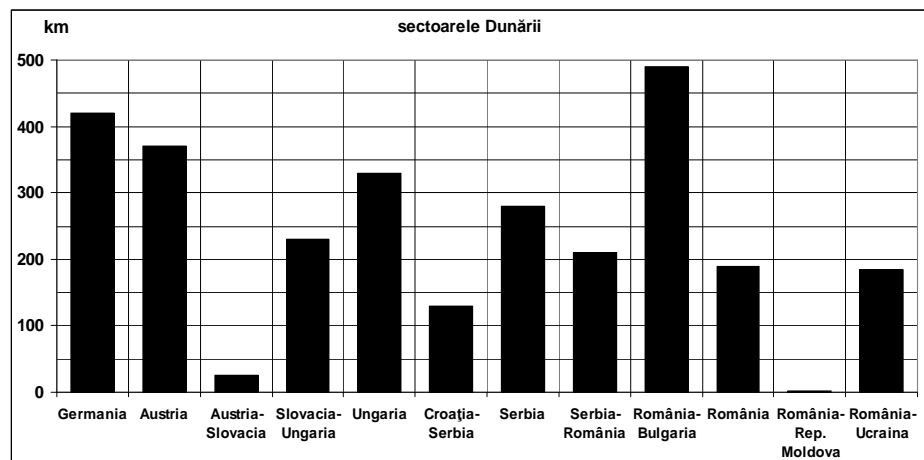
### III. Tétel

(30 pont)

Az alábbi grafikon a **III. Tétel A-B** pontjaira vonatkozik és a Duna folyószakaszainak a hosszát mutatja.

A. Írjátok le:

1. a Duna leghosszabb szakaszának a hosszát;
2. az országot, ahonnan ered a Duna;
3. annak a szakasznak a hosszát, amelyet a Duna Magyarország területén tesz meg (a határszakasz kivételével)
4. annak a szakasznak a teljes hosszát, amelyet a Duna Romániában tesz meg, az országba való belépéstől a Fekete-tengerbe való torkolatáig.



4 pont

**B. Írjátok le a vizsgalapra:**

1. két olyan domborzati egységnek a nevét, amelyeken a Duna átfolyik vagy amelyeket határol folyása közben;
2. két közvetlen mellékfolyóját, amelyek Románia területén ömlenek bele;
3. két, olyan 50000-nél nagyobb népességű város nevét, amelyeken a Duna áthalad forrásától a torkolatáig.

**6 pont**

**C. Jellemezzétek Moldova Köztársaságot és írjátok le:**

1. két szomszédos államának a nevét;
2. két domborzati egységének a nevét;
3. két folyójának a nevét;
4. három városának a nevét;
5. egy növényzeti típusának a nevét.

**10 pont**

**D. Az alábbi táblázat két, A és B betűkkel jelölt, európai főváros meteorológiai állomásának a havi és évi középhőmérsékletét valamint a havi és évi átlagos csapadékát mutatja.**

Főváros		I	II	III	IV	V	VI	VII	VIII	IX	X	XI	XII	
<b>A</b>	havi közép-hőmérs. (°C)	5,0	5,0	6,4	8,0	10,6	13,5	15,2	14,9	13,2	10,6	7,1	5,9	évi közép-hőmérs. <b>9,6</b>
	havi átlagos csap.(mm)	63,7	50,6	51,7	49,3	56,4	55,1	65,2	75,5	62,3	73,4	68,8	68,5	évi csapadék <b>741,9</b>
<b>B</b>	havi közép-hőmérs. (°C)	-10,3	-9,1	-4,1	4,4	12,2	16,3	18,5	16,7	10,9	4,2	-2,0	-7,5	évi közép-hőmérs. <b>4,1</b>
	havi átlagos csap.(mm)	34,4	29,0	32,7	38,2	51,0	65,6	81,5	71,8	57,7	50,4	44,1	42,4	évi csapadék <b>600,6</b>

1. Számítsátok ki az évi közepes hőingást mindkét város esetében.
2. Írjátok le, hogy a következők közül: Bukarest, Dublin és Moszkva, melyik az **A** és a **B** város.
3. Írjátok le a táblázatban **A** betűvel jelölt fővárosra jellemző éghajlati típus nevét;
4. Írjátok le a táblázatban **B** betűvel jelölt fővárosra jellemző éghajlati típus nevét.

**6 pont**

**E. 1. Magyarázzátok meg az évi közepes hőingásra vonatkozó különbségeket, a fenti táblázatban szereplő városok között.**

**2. Magyarázzátok meg az évi csapadéokra vonatkozó különbségeket, a fenti táblázatban szereplő városok között.**

**4 pont**