

Examenul de bacalaureat național 2015

Proba E. d)

Geografie

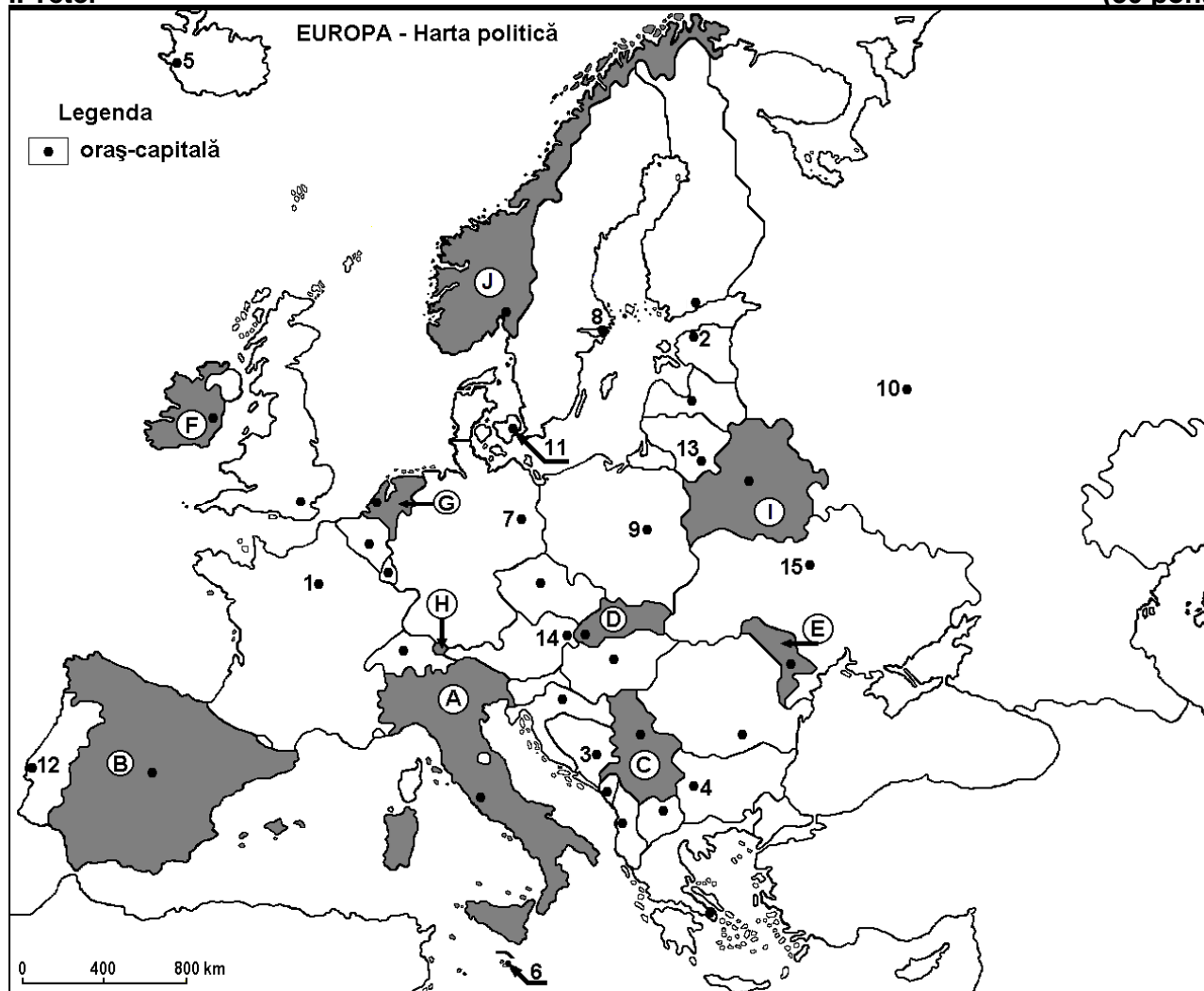
Varianta 2

Profilul umanist din filiera teoretică, profilul servicii din filiera tehnologică și toate profilurile și specializările din filiera vocațională, cu excepția profilului militar

- Toate subiectele sunt obligatorii. Se acordă 10 puncte din oficiu.
- Timpul efectiv de lucru este de 3 ore.

I. Tétel

(30 pont)



A fenti térkép az I. Tétel A-D pontjaira vonatkozik A térképen az országokat betűk, a fővárosokat számok jelölik.

A. Nevezzétek meg:

1. a térképen F betűvel jelölt ország nevét;
2. a térképen 1-es számmal jelölt főváros nevét.

4 pont

B. Írjátok a vizsgalapra az alábbi mondatokat kiegészítő helyes válaszokat:

1. A térképen D betűvel jelölt ország neve ...
2. A 8-as számmal jelölt főváros kikötő a ... -tenger partján.
3. A 7-es számmal jelölt főváros neve ...

6 pont

C. Írjátok a vizsgalapra a helyes válasz betűjelét mindegyik kijelentésre vonatkozóan:

1. A 11-es számmal jelölt főváros neve:

a. Koppenhága

b. Riga

c. Tallinn

d. Vilnius

2 pont

2. A legnagyobb európai tengeri kikötő a következő betűvel jelölt országban található:
a. F b. G c. I d. J 2 pont
3. Az Andalúziai-alföld a következő betűvel jelölt országban található:
a. A b. B c. C d. I 2 pont
4. A C betűvel jelölt ország fővárosa:
a. Belgrád b. Pozsony c. Budapest d. Szófia 2 pont
5. A térképen H betűvel jelölt ország neve:
a. Liechtenstein b. Luxemburg c. Málta d. Monaco 2 pont

D. Írjatok három különbséget a térképen A és J betűkkel jelölt országok **éghajlata** között.

1 Megjegyzés: A különbségek a következő éghajlati elemek bármelyikére vonatkozhatnak: éghajlati tényezők, éghajlati típus, évi/nyári/téli középhőmérsékletek, hőmérsékleti amplitúdó, évi/nyári/téli átlagos csapadék, gyakori szelek.

2 Megjegyzés: A teljes pontszám csak abban az esetben adható meg, ha a különbségek összehasonlításképpen és nem külön-külön vannak leírva.

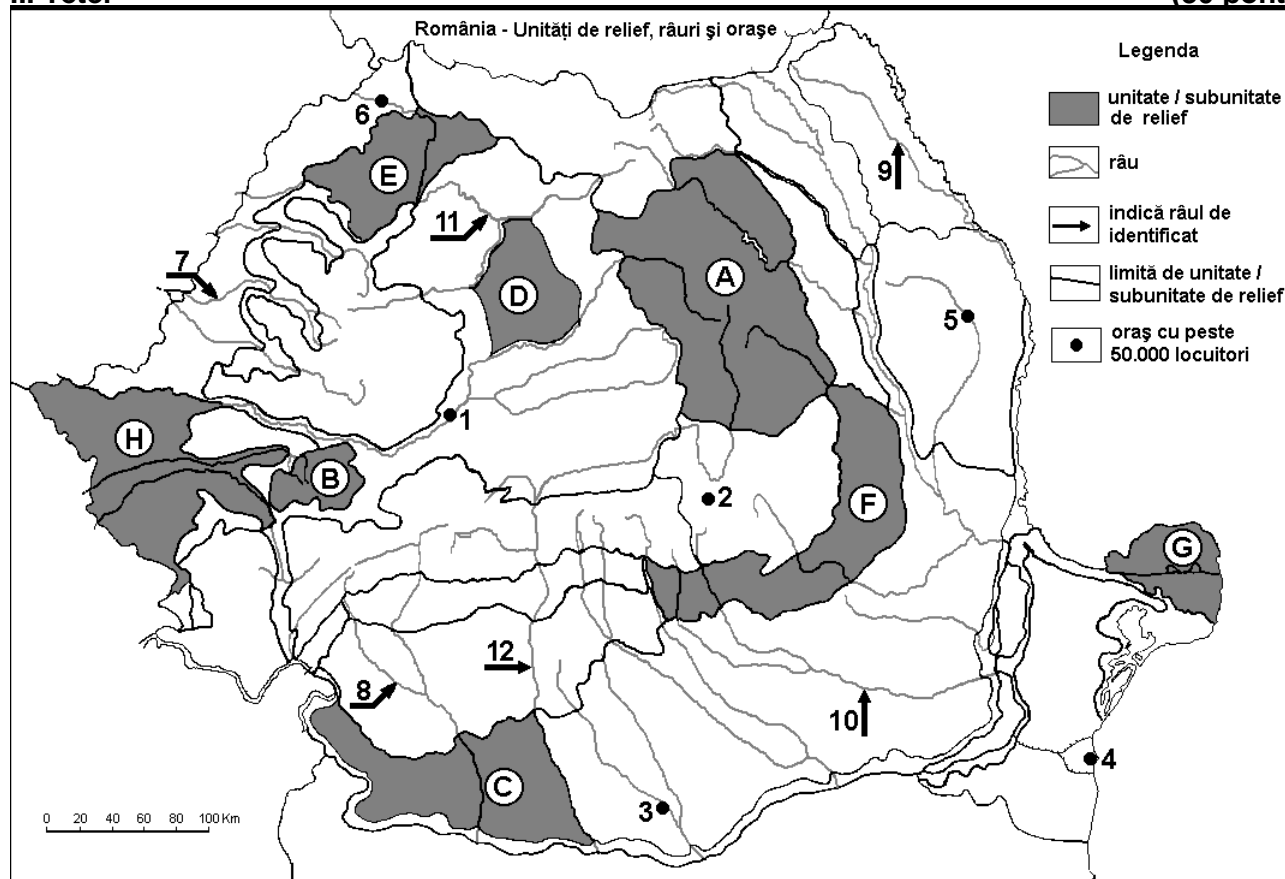
6 pont

E. Mutasson be két tényezőt, amelyek befolyásolták a városok földrajzi eloszlását az európai térségben.

4 pont

II. Tétel

(30 pont)



A fenti térkép a II. Tétel A-D pontjaira vonatkozik. A térképen a domborzati egységeket betűk, a városokat 1-től 6-ig, a folyókat 7-től 12-ig számok jelölik.

A. Nevezd meg:

1. a térképen 2-es számmal jelölt várost;
2. a térképen 12-es számmal jelölt folyót.

4 pont

B. Írjátok a vizsgalapra az alábbi mondatokat kiegészítő helyes válaszokat:

1. A térképen 6-os számmal jelölt város neve ...
2. Egy nagy tengeri hajóépítő üzem található a ... számmal jelölt városban.

3. A térképen **10**-es számmal jelölt folyó neve ...

6 pont

C. Írjátok a vizsgalapra a helyes válasz betűjelét mindegyik kijelentésre vonatkozóan:

1. Vasércet és márványt bányásznak a következő betűvel jelölt domborzati egység területén:

a. B b. D c. E d. F 2 pont

2. A térképen **3**-as számmal jelölt város neve:

a. Alexandria b. Călărași c. Giurgiu d. Slatina 2 pont

3. A térképen **9**-es számmal jelölt folyó neve:

a. Bârlad b. Jijia c. Prut d. Moldova 2 pont

4. Óceáni éghajlati hatás érződik a következő betűvel jelölt domborzati egység területén:

a. C b. E c. F d. G 2 pont

5. Erdőssztyep jellemző a következő betűvel jelölt domborzati egység területére:

a. A b. B c. F d. H 2 pont

D. Írjatok három különbséget a térképen **A** és **F** betűkkel jelölt tájegységek **domborzata** között.

1 Megjegyzés: A különbségek a domborzat következő jellemzőire vonatkozhatnak: kialakulási mód, közettani felépítés, tengerszint feletti magasságok, tagoltság, domborzati típusok, a hegységek és a fontosabb völgyek iránya, a medencék elhelyezkedése, más domborzati jellemzők.

2 Megjegyzés: A teljes pontszám csak abban az esetben adható meg, ha a különbségek összehasonlításukppen és nem külön-külön vannak leírva.

6 pont

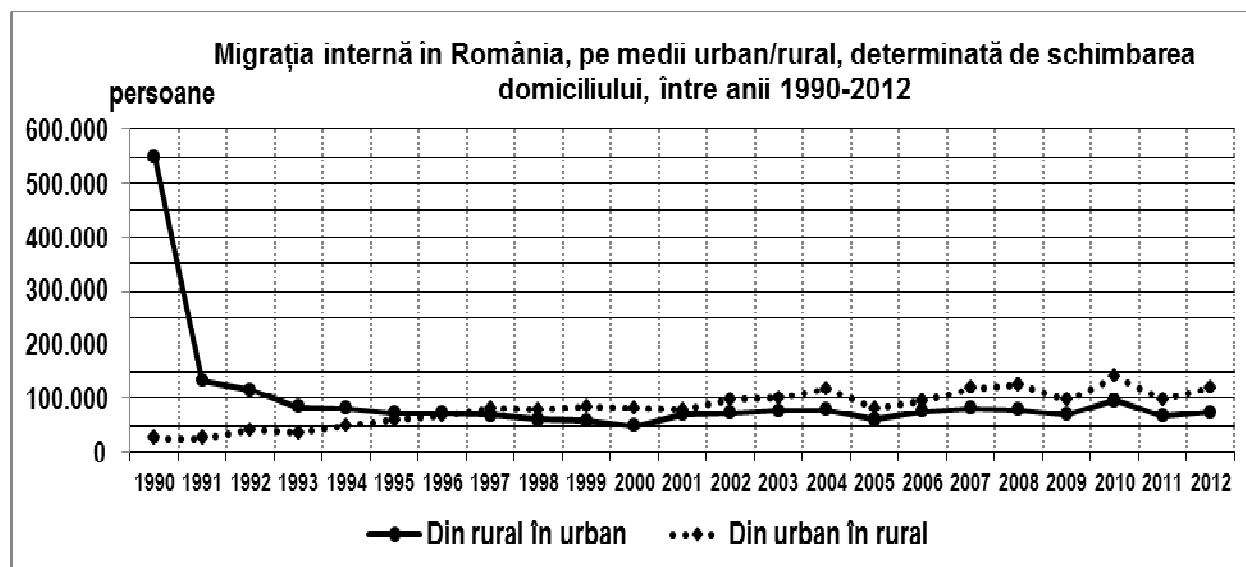
E. Krassó-Szörény megyében az erdővel borított terület kb. négyszer nagyobb, mint Tulcea megyében, habár a két megye területe hasonló (Krassó-Szörény- 8514 km², Tulcea- 8499 km²). Írjatok két természeti tényezőt, amelyek meghatározzák ezt a helyzetet.

4 pont

III. Tétel

(30 pont)

Az alábbi grafikon a III. Tétel **A-B** pontjaira vonatkozik és a falu-város közötti belső migrációt ábrázolja 1990 után, Romániában..



Forrás: Országos Statisztikai Hivatal

A. Írjátok le:

1. a faluról városra vándorló lakosság legnagyobb számát és az évet, amikor feljegyezték;

2. a városról falura vándorló lakosság legnagyobb számát és az évet, amikor feljegyezték.

4 pont

- B. 1.** Számítsátok ki a két féle migráció közötti különbséget, 1990-re vonatkozóan.
2. Határozzátok meg azt az időszakot, amikor a faluról városra való vándorlás a legmeredekebben csökkent.
3. Írjátok egy okot, amiért az emberek faluról városra vándorolnak.

6 pont

C. Magyarországra vonatkozóan írjátok le:

1. két szomszédos országnak a nevét, amelyek Európai Unió tagállamok;
2. két szomszédos országnak a nevét, amelyek nem Európai Unió tagállamok;
3. két domborzati egységének a nevét;
4. két folyójának a nevét;
5. két városának a nevét.

10 pont

D. Az alábbi táblázat a hasznosított mezőgazdasági területeket mutatja három európai országban, 2010-re vonatkozóan.

Németország	Olaszország	Lengyelország
16.704.000 ha	12.856.000 ha	14.447.000 ha

Forrás: Eurostat

1. Számítsátok ki, hogy mennyivel kisebb a hasznosított mezőgazdasági terület Lengyelországban, mint Németországban.
2. Írjátok két, Olaszországra jellemző termesztett növényt.
3. Írjátok le egy domborzati egység nevét Olaszországból, ahol nagy mezőgazdasági területek (főleg szántók) találhatóak.

6 pont

E. Az alábbi táblázat a különböző forrásokból nyert villamos energia részarányát mutatja két európai országban, 2012-ben.

Ország	Fosszilis energiahordozók	Vízenergia
Lengyelország	89,2%	2,8%
Ausztria	27,5%	59,6%

Forrás: Factbook, 2014

Írjátok egy okot, ami megmagyarázza:

1. a fosszilis energiahordozókból nyert villamos energia nagy részarányát Lengyelországban;
2. a vízenergiából nyert villamos energia nagy részarányát Ausztriában.

4 pont