

Examenul de bacalaureat național 2015

Proba E. d)

Geografie

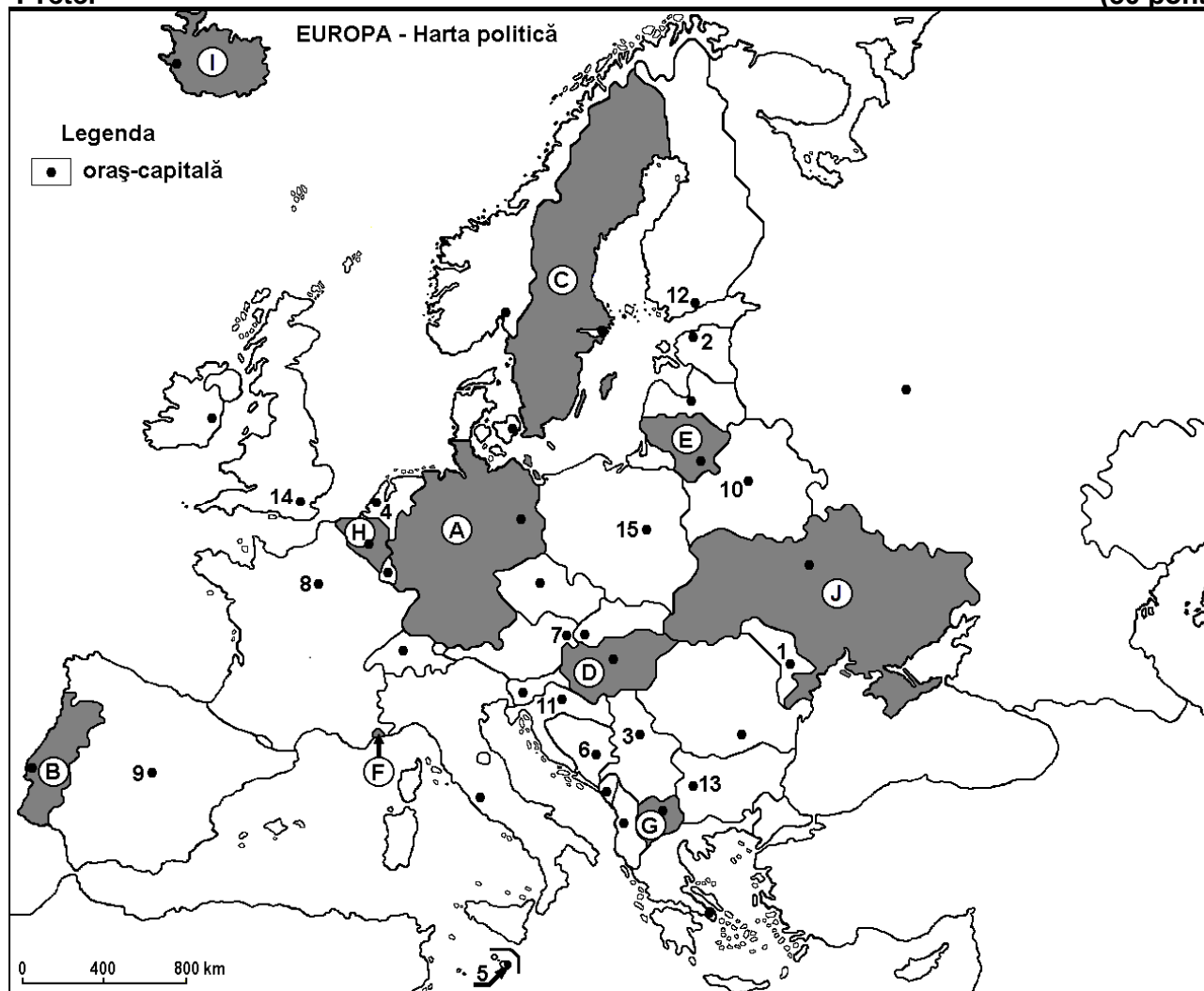
Varianta 5

*Profilul umanist din filiera teoretică, profilul servicii din filiera tehnologică și toate profilurile și specializările din filiera vocațională, cu excepția profilului militar*

- Toate subiectele sunt obligatorii. Se acordă 10 puncte din oficiu.
- Timpul efectiv de lucru este de 3 ore.

I Tétel

(30 pont)



A fenti térkép az I. Tétel A-D pontjaira vonatkozik. A térképen az országokat betűk, a fővárosokat számok jelölik.

A. Nevezzétek meg:

1. a térképen a C betűvel jelölt országot;
2. a térképen a 9-es számmal jelölt fővárost.

4 pont

B. Írjátok a vizsgalapra az alábbi mondatokat kiegészítő helyes válaszokat:

1. A térképen a B betűvel jelölt ország neve...
2. A térképen a 13-as számmal jelölt főváros neve...
3. A térképen a D betűvel jelölt ország fővárosának a neve...

6 pont

C. Írjátok a vizsgalapra a helyes válasz betűjelét mindegyik kijelentésre vonatkozóan:

1. A térképen F betűvel jelölt ország neve:

a. Andorra

b. Liechtenstein

c. Málta

d. Monaco

2 pont

2. Mersékelt-szárazföldi éghajlat jellemzi azt a régiót, amelyben a térképen az alábbi számmal jelölt város található:  
a. 1                      b. 4                      c. 5                      d. 14                      **2 pont**
3. A térképen 5-ös számmal jelölt főváros neve:  
a. Athén                      b. Nicosia                      c. Tirana                      d. Valletta                      **2 pont**
4. A Fekete-erdő hegység annak az országnak a területén található, amelyet a térképen az alábbi betű jelöl:  
a. A                      b. D                      c. H                      d. J                      **2 pont**
5. A térképen a Temze folyó által átszelt fővárost jelölő szám:  
a. 7                      b. 8                      c. 14                      d. 15                      **2 pont**

D. Írjatok három különbséget a térképen I és J betűkkel jelölt országok **éghajlata** között.

**1 Megjegyzés:** A különbségek a következő éghajlati elemek bármelyikére vonatkozhatnak: éghajlati tényezők, éghajlati típus, évi/nyári/téli középhőmérsékletek, hőmérsékleti amplitúdó, évi/nyári/téli átlagos csapadék, gyakori szelek.

**2 Megjegyzés:** A teljes pontszám csak abban az esetben adható meg, ha a különbségek összehasonlítóképpen és nem külön-külön vannak leírva. **6 pont**

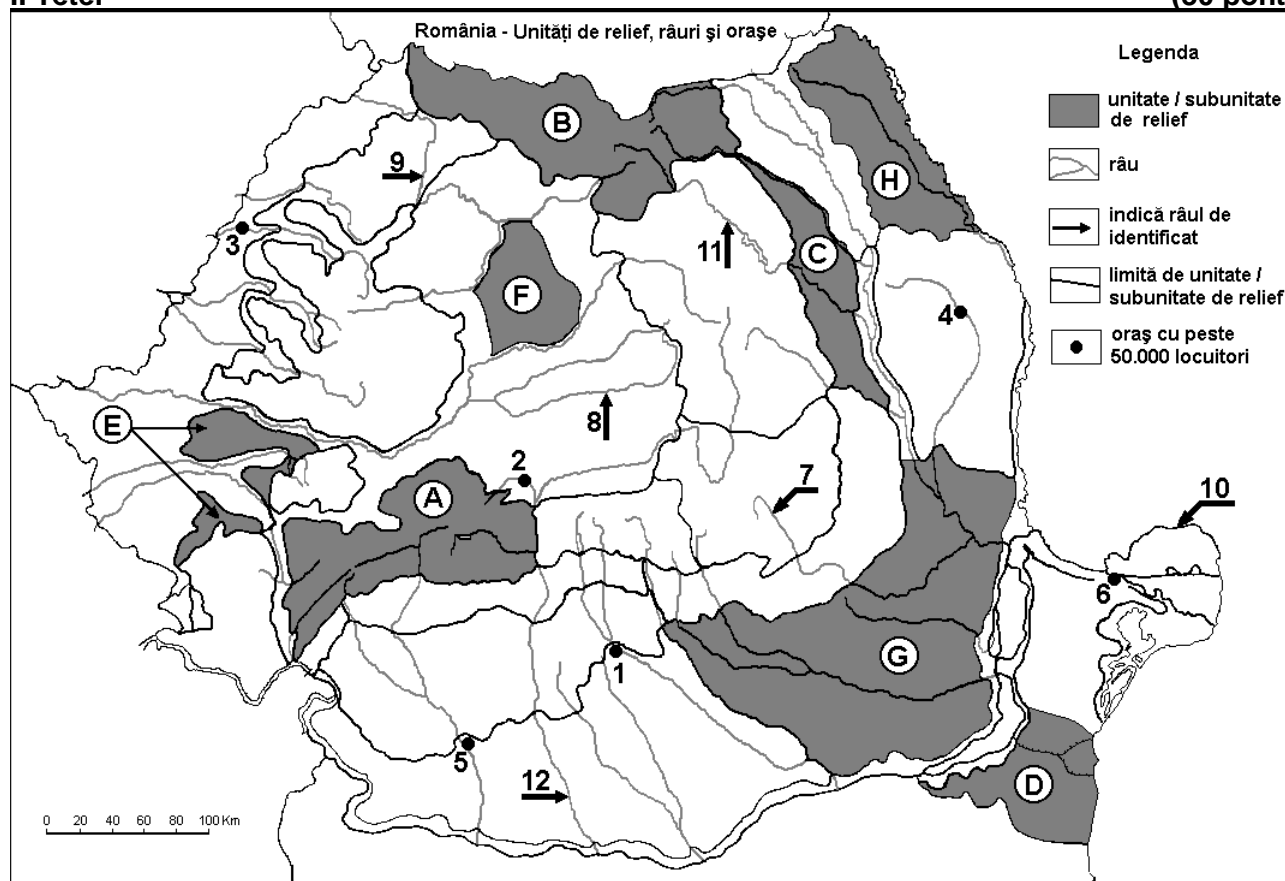
E. 1. Mutassatok be egy tényezőt, amely az utóbbi évtizedben meghatározta Nagy Britannia és Észak-Írország Egyesült Királyság népességének növekedését.

2. Európa hegyvidékeire vonatkozóan nevezetek meg két jellegzetes gazdasági tevékenységet.

**4 pont**

## II Tétel

**(30 pont)**



A fenti térkép a II. Tétel A-E pontjaira vonatkozik. A térképen a domborzati egységeket betűk, a városokat 1-től 6-ig, a folyókat 7-től 12-ig számok jelölik.

A. Írjátok le:

1. a térképen a 6-os számmal jelölt város nevét;
2. a térképen a 12-es számmal jelölt folyó nevét.

**4 pont**

**B.** Îrjați a vizsgalapra az alábbi mondatokat kiegészítő helyes válaszokat:

1. A térképen a **2-es** számmal jelölt város neve...
2. A térképen a **3-as** számmal jelölt várost átszelő folyó neve...
3. A térképen a **9-es** számmal jelölt folyó neve...

**6 pont**

**C.** Îrjați a vizsgalapra az alábbi mondatokat kiegészítő helyes válaszokat:

1. A térképen az **1-es** számmal jelölt város neve:  
a. Pitești                      b. Ploiești                      c. Slatina                      d. Târgoviște                      **2 pont**
2. A térképen az alábbi számmal jelölt folyó szeli át a Küküllők dombságát (Podișul Târnavelor):  
a. 7                      b. 8                      c. 9                      d. 11                      **2 pont**
3. A térképen az alábbi betűvel jelölt domborzati egységbe hatol be a pontikus éghajlati hatás:  
a. B                      b. D                      c. E                      d. H                      **2 pont**
4. A térképen **10-es** számmal jelölt Duna-ág neve:  
a. Borcea                      b. Chilia                      c. Sfântu Gheorghe                      d. Sulina                      **2 pont**
5. Glaciális domborzat található a térképen az alábbi betűvel jelölt tájegységben:  
a. A                      b. C                      c. E                      d. H                      **2 pont**

**D.** Írjátok három különbséget a térképen **B** és **H** betűkkel jelölt tájegységek **domborzata** között.

**1 Megjegyzés:** A különbségek a domborzat következő jellemzőire vonatkozhatnak: kialakulási mód, közzetani felépítés, tengerszint feletti magasságok, tagoltság, domborzati típusok, a hegységek és a fontosabb völgyek iránya, a medencék elhelyezkedése, más domborzati jellemzők.

**2 Megjegyzés:** A teljes pontszám csak abban az esetben adható meg, ha a különbségek összehasonlításuként és nem külön-külön vannak leírva.

**6 pont**

**E.** Mutassatok be/mutassátok be:

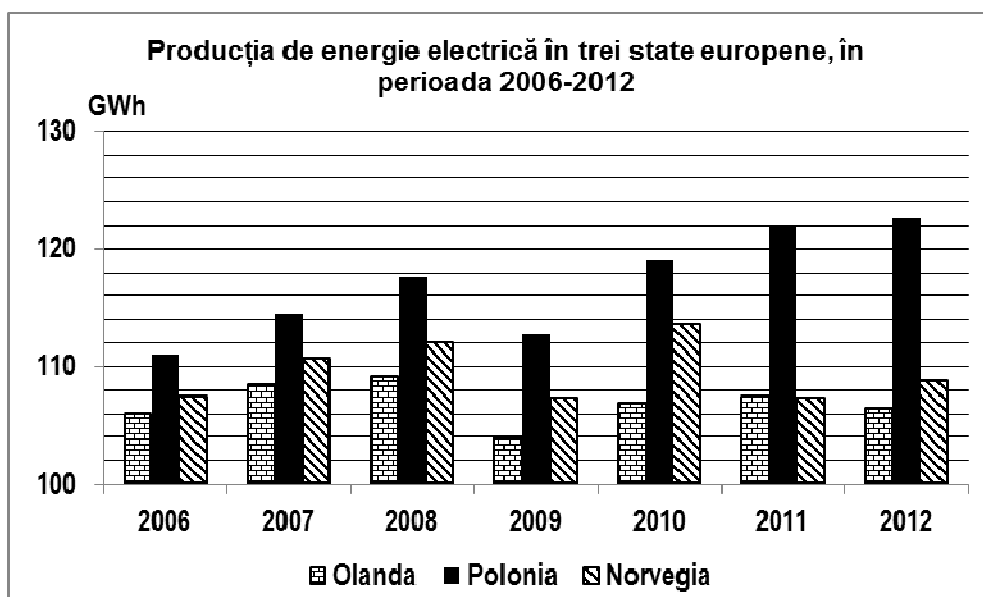
1. egy okot, amely magyarázatot ad az évi csapadékatlagok közötti különbségre a térképen **F** és **D** betűkkel jelölt domborzati egységekre vonatkozóan
2. két természeti okát a gabonatermesztésnek a térképen **G** betűvel jelölt domborzati egységen.

**4 pont**

### III Tétel

**(30 pont)**

Az alábbi grafikon a **III. Tétel A-B** pontjaira vonatkozik és néhány európai ország villamosenergia termelésének fejlődését mutatja be (GWh-ban) 2006-2012 között.



Forrás: Eurostat

**A.** Írjátok le:

1. Norvégia villamosenergia termelésének legmagasabb értékét és az évet, amikor mérték;
2. Hollandia villamosenergia termelésének értékét 2009-ben;
3. Lengyelország villamosenergia termelésének értékét 2012-ben.

**4 pont**

**B.**

1. Számítsátok ki, mennyivel növekedett Lengyelország villamosenergia termelése 2006-2012 között.
2. Írjátok le, melyik a legfontosabb energiaforrás Lengyelországban.
3. Írjátok le, melyik a legfontosabb újratermelődő energiaforrás, amit Norvégiában használnak.

**6 pont**

**C. Görögországra** vonatkozóan írjátok le:

1. két szomszédjának a nevét, amelyek **nem** tagjai az Európai Uniónak;
2. két domborzati egységének a nevét;
3. éghajlatának két jellemző vonását;
4. két városának a nevét;
5. két jellegzetes termesztett növényét.

**10 pont**

**D.** Az alábbi táblázat a bevándorlók és a kivándorlók számát mutatja be két európai országban 2012-ben:

Ország	Bevándorlók	Kivándorlók
Németország	592.175	240.001
Bulgária	14.103	16.615

*Forrás: Eurostat*

Írjátok le:

1. Németország migrációs mérlegének értékét.
2. Bulgária migrációs mérlegének értékét.
3. egy okát a Németországban levő bevándorlók magas arányának.

**6 pont**

**E.** Az Európai Unió egy politikai, társadalmi és gazdasági alakulat, amelyet jelenleg 28 ország alkot. Nevezzétek meg:

1. két szimbólumát az Európai Uniónak;
2. két államát, amelyeket az Európai Unió alapító tagjainak tekintenek.

**4 pont**